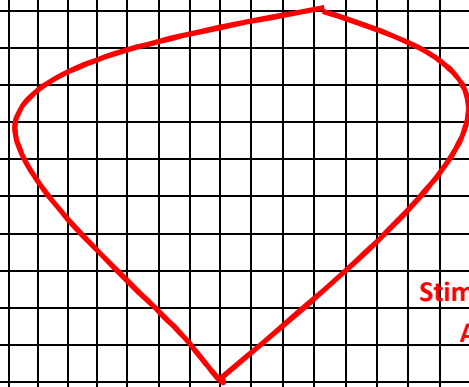
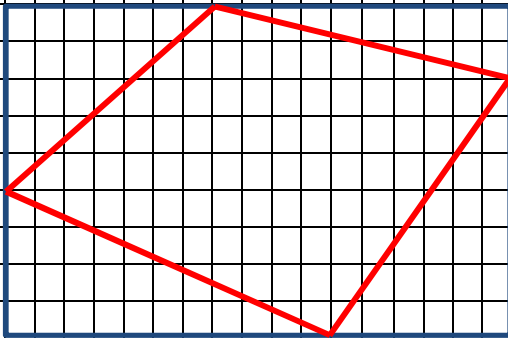
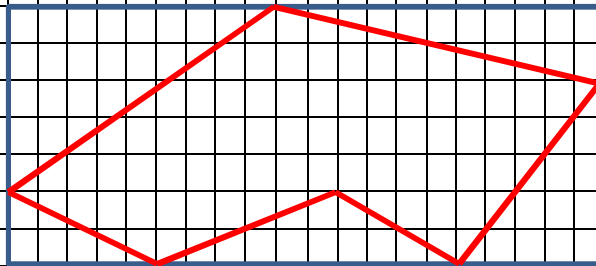


Determina Area e perimetro delle parti in rosso, sapendo che 1 trattino è circa 1 cm.



Stima la sua AREA



By nulliusinverba.run

Quest'opera è distribuita con Licenza
Creative Commons Attribuzione - Non commerciale -
Condividi allo stesso modo 4.0 Internazionale.